


2023 届初中毕业生毕业升学考试

地理试卷

第一部分 选择题

一、单项选择题（本题共 15 个小题，每小题 1 分，共 15 分）

1. 下列天气最适合户外晾晒被褥的是（ ）

- A.  B.  C.  D. 

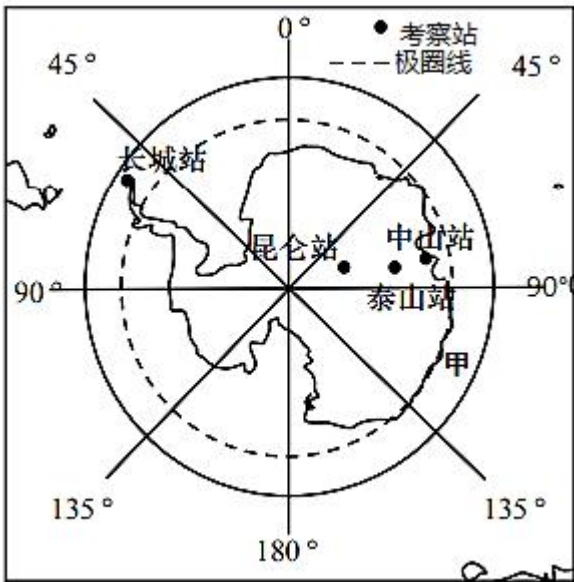
2. 世界上面积最大的大洲是（ ）

- A. 北美洲 B. 非洲 C. 亚洲 D. 大洋洲

3. 俄罗斯是中国重要的贸易伙伴。下列商品可能是中国出口到俄罗斯的是（ ）

- A. 钢铁、化肥 B. 服装、玩具 C. 石油、天然气 D. 小麦、橡胶

4. 下图，我国南极四个科考站中，无极昼极夜的是（ ）

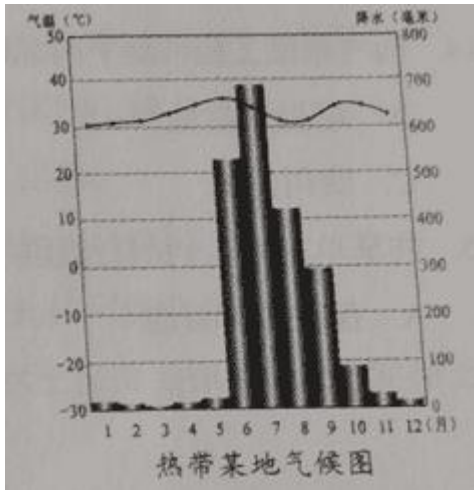


- A. 昆仑站 B. 泰山站 C. 中山站 D. 长城站

5. 洪涝灾害会造成人员伤亡和财产损失，我国高度重视防灾减灾工作，并取得了很大的成就。下列成就与防洪救灾无关的是（ ）

- A. 遥感技术增强天气预报能力 B. 修建水库等水利工程
C. 建设大量救灾物资储备中心 D. 北方地区营造防护林

读图，回答下列小题。



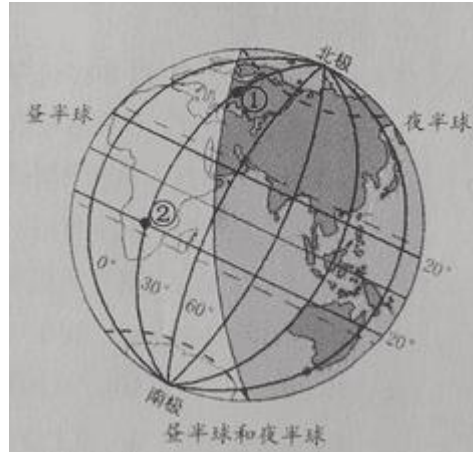
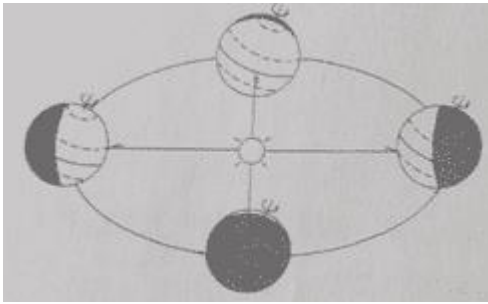
6. 下列关于降水的描述,符合上图的是 ()
- A. 6月降水最多
B. 降水集中在夏季
C. 各月降水分布均匀
D. 降水集中在6~9月
7. 影响该地气温的主要因素是 ()
- A. 地形因素
B. 海陆因素
C. 纬度因素
D. 洋流因素
8. 下列对家乡水果的描述,说法正确的是 ()
- A. 家在东北黑龙江,杨梅枝家乡产
B. 家住山东黄河边,苹果鸭梨很常见
C. 出生湖北长江边,只有柑橘未曾见
D. 我在海南安的家,椰子香蕉不常见
9. “深圳某高校用科研创新‘智斗’疫情,开发新材料抗疫产品、研发大数据和人工智能推演平台……”这体现了我国哪一类产业取得的成就 ()
- A. 农业
B. 重工业
C. 服务业
D. 高新技术产业
10. 秦岭—淮河一线是我国重要的地理分界线。下列分界线大致位于秦岭—淮河一线的是 ()
- A. 畜牧业和种植业的分界线
B. 地势一、二阶梯的分界线
C. 我国南方和北方的分界线
D. 内流区和外流区的分界线
11. 1949年10月1日,中华人民共和国成立,北京成为中华人民共和国的首都。这体现了北京的城市职能是 ()
- A. 政治中心
B. 文化中心
C. 经济中心
D. 国际交往中心
12. 我国南方地区普遍 ()
- A. 干旱
B. 高寒
C. 冷湿
D. 湿热
13. 西北地区农产品品质优良,瓜果特别甜,主要自然原因是 ()
- A. 夏季气温高,河水和地下水充足
B. 深居内陆,降水少
C. 夏季气温高,光照强,昼夜温差大
D. 技术先进,品种优良

14. 西气东输工程带动了西部地区的经济发展，一线工程西起我国四大盆地中的（ ）
- A. 塔里木盆地 B. 柴达木盆地 C. 四川盆地 D. 准噶尔盆地
15. 共享单车为人们出行提供了便利，它对环境保护产生的积极意义在于（ ）
- A. 保护森林资源 B. 节约土地资源 C. 倡导低碳生活 D. 节约时间

第二部分 非选择题

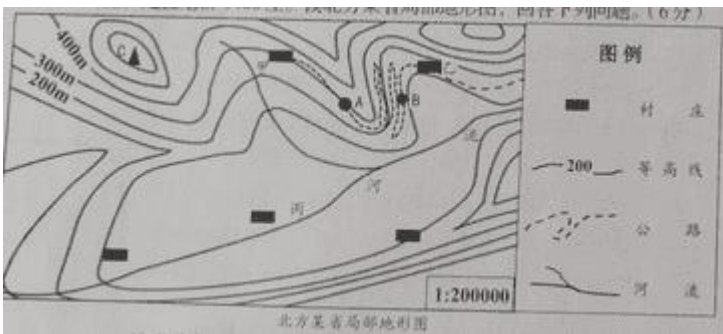
二、综合题（第 16-21 题，每空 1 分，共 35 分）

16. 读图，回答下列问题。



- (1) 地球的形状是_____，它自西向东绕_____公转。
- (2) ①地所在的大洲是_____。②地经纬度是_____，②地的传统民居是_____。
- (3) 读“昼半球和夜半球”图，此时①地正值_____（清晨/正午/傍晚/午夜）。次日，①②两地_____先迎来日出。

17. “十三五”期间，我国北方某省实施精准扶贫农村公路建设 1385 公里，维修改造 5000 公里，处置危桥 1466 座。读北方某省局部地形图，回答下列问题。

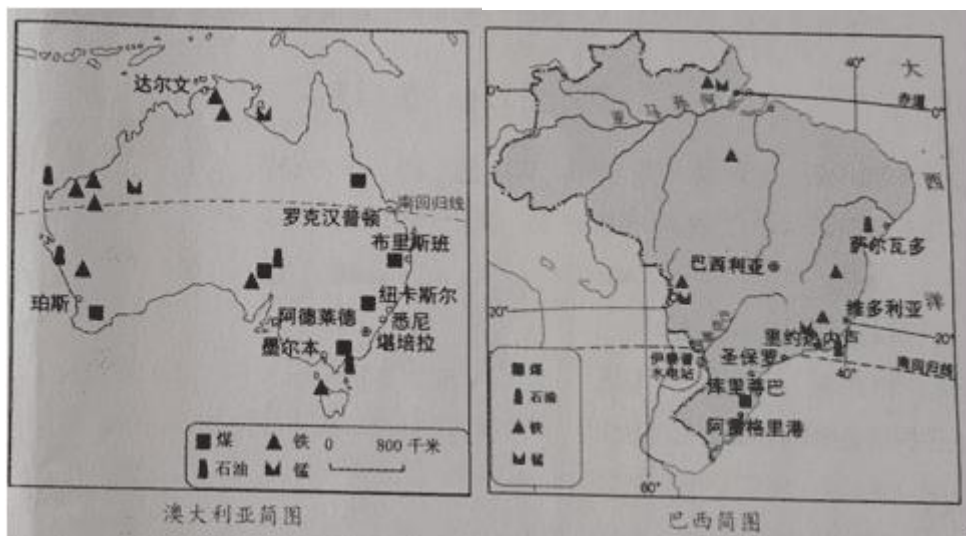


- (1) 丙区域的地形类型是_____，从因地制宜发展农业的角度看，该地适合发展的农业类型是_____。
- (2) 图中河流干流的流向大致是_____。
- (3) 甲、乙两村图中直线距离约 3cm，实地距离约为_____km。
- (4) 为解决甲、乙两村间盘山路曲折、交通不便的问题，专家重新规划了 A、B 两地间的线路，大大缩短了路程，该方案最可能是（ ）

- A. 建高架桥 B. 修建隧道 C. 沿山坡修路 D. 建立交桥

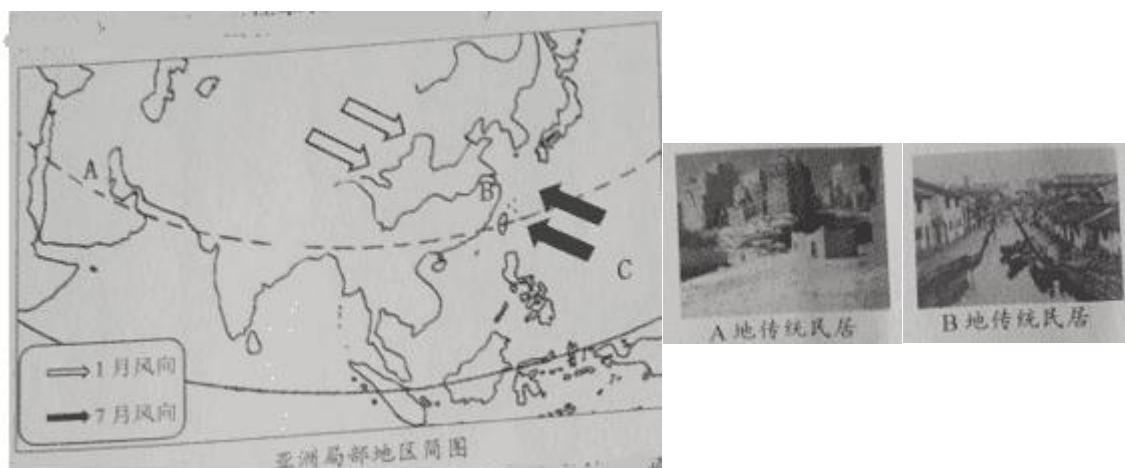
(5) 道路改造完成后，秀美的山峰 C 成为周边游客的网红打卡地，游客感觉峰顶的气温比甲村低。经测量，气温一般低____℃左右。(结果保留整数)

18. 读澳大利亚简图和巴西简图，回答下列问题。



- (1) 澳大利亚的首都是_____，巴西首都巴西利亚位于五带中的_____。
- (2) 图中两国主要城市集中分布在本国的_____地区。
- (3) 两国工业发展的共同有利条件是 ()
- ①矿产资源丰富 ②国内消费市场广阔 ③海上交通便利 ④劳动力资源充足
- A. ①② B. ①③ C. ②③ D. ③④
- (4) 某中学生想体验狂欢节、观看桑巴舞表演，应该去两国中的_____。

19. 读亚洲局部地区简图，回答下列问题。



- (1) A 地传统民居墙厚、顶平、窗小，适应当地炎热干燥的环境，由此判断 A 地的气候类型为_____。
- (2) 匮乏的水资源严重影响 A 地人民的生产和生活，针对 A 地水资源短缺问题，下列解决方法科学合理的一组是 ()

①跨流域调水 ②海水淡化 ③发展节水农业 ④大力开采地下水

A. ①②

B. ③④

C. ②③

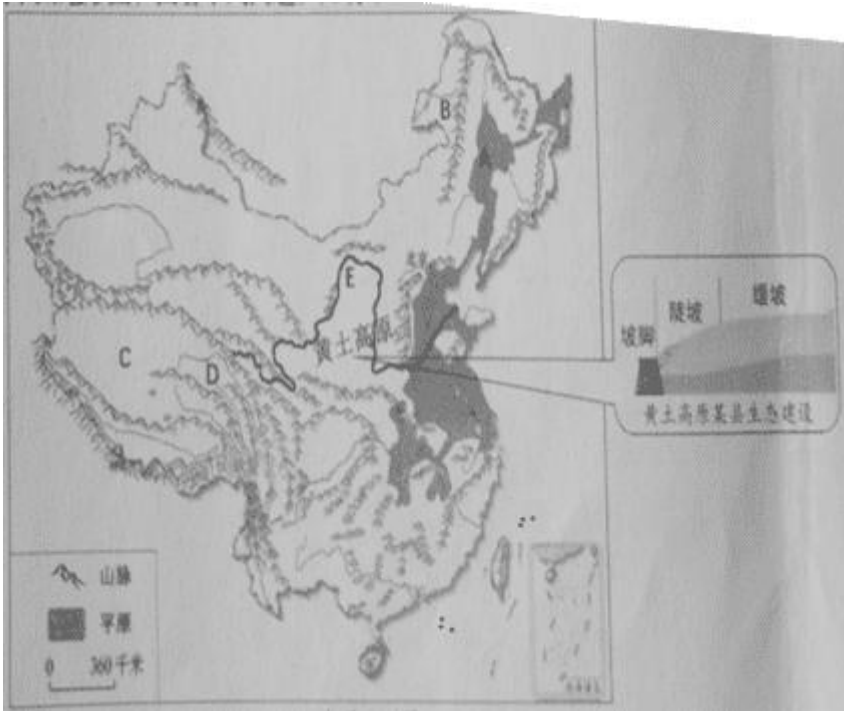
D. ①④

(3) B地夏季盛行_____季风(风向),降水丰沛,传统民居墙体高、屋顶坡度大。

(4) B地水热条件优越,是我国重要的稻米和淡水鱼产区,被誉为“_____”。

(5) AB两地气候迥异的主要原因是: B地位于世界最大的大陆——亚欧大陆的东部,濒临最大的大洋C_____,海陆热力差异显著。

20. 读中国地形图,回答下列问题。



(1) 我国机械化程度最高、提供商品粮最多的粮食生产基地 A 是_____平原。

(2) “绿水青山就是金山银山”。位于我国最大天然林区的山脉 B 是_____。

(3) 高原 C 平均海拔在 4000 米以上,素有“_____”之称。

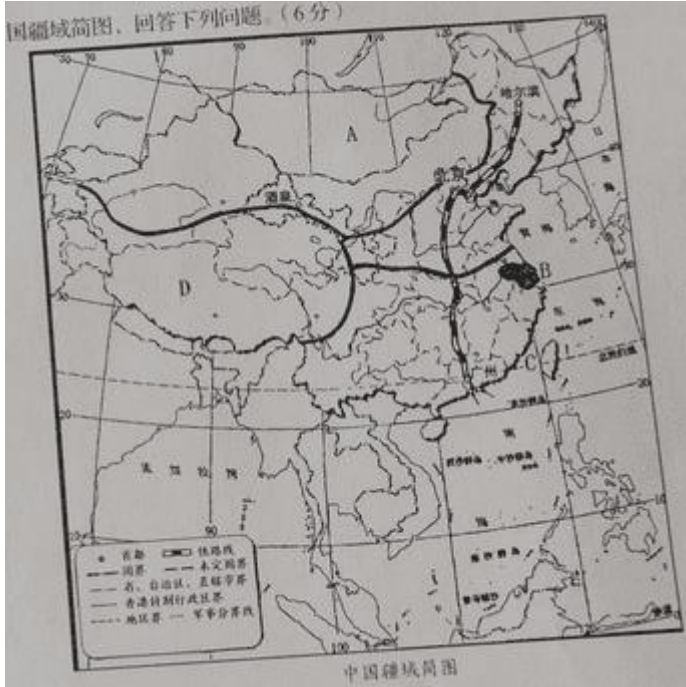
(4) 位于高原 C 上,有“中华水塔”之称的区域 D 是_____地区。

(5) “中华水塔”是许多大江大河的发源地,发源于此的河流 E 是_____。

(6) 河流 E 流经的黄土高原水土流失严重,为做好水土保持工作,某县修建挡土坝和护坡,适合采用这一措施的地带是_____。

21. 读中国疆域简图,回答下列问题。

中国疆域简图，回答下列问题。(6分)



- (1) 我国疆域辽阔，邻国众多，邻国 A 是_____。
- (2) 工业是我国国民经济的支柱产业，沿海的工业基地 B 是_____工业基地。
- (3) 台湾省是祖国不可分割的神圣领土，这里有我国最大的岛屿——台湾岛，台湾岛与祖国大陆之间的海峡 C 是_____。
- (4) 我国四大地理区域中的 D 是_____地区。
- (5) 神舟十四号载人飞船在酒泉发射成功，酒泉所在省区的全称是_____。
- (6) 图中贯穿我国南北的铁路大动脉是_____。

